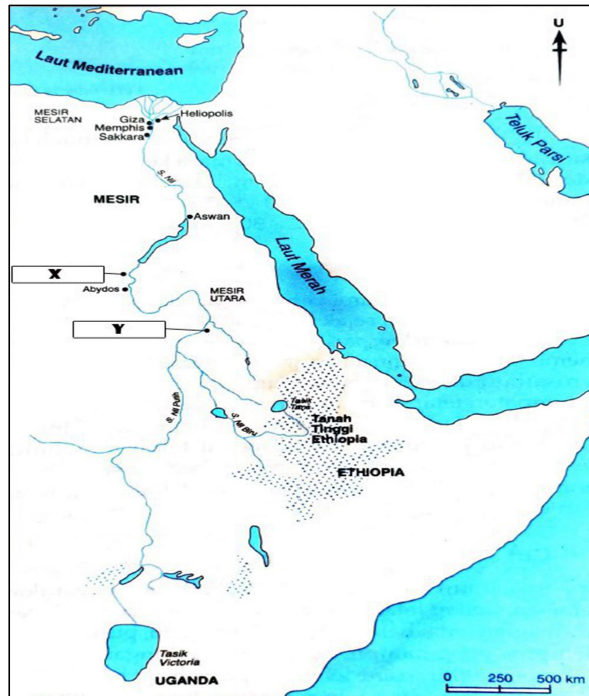


Bahagian A
[40 markah]
Jawab **semua** soalan

1 Peta di bawah berkaitan dengan Tamadun Mesir Purba



Peta 1

(a) Berdasarkan **peta 1**, namakan bandar yang bertanda **X** dan **Y**.

i) **X**

.....
[1 markah]

ii) **Y**

.....
[1 markah]

(b) Mengapakan tamadun Mesir Purba dikatakan sebagai anugerah daripada Sungai Nil?

.....
.....
.....
.....
.....
[4 markah]

(c) Terangkan sumbangan Tamadun Mesir Purba kepada dunia yang masih kekal hingga hari ini.

.....

.....

.....

.....

.....

[4 markah]

2 Rajah menunjukkan pertembungan tamadun Islam dengan tamadun lain di dunia.

Tahun	Pertembungan
639M	Tamadun Islam – Tamadun Yunani- Rom
711M	Tamadun Islam – Tamadun Eropah

Rajah 1

(a) Nyatakan cara pertembungan tamadun tersebut:

.....

.....

.....

[2 markah]

(b) Jelaskan kesan pertembungan tamadun Islam dengan tamadun lain.

.....

.....

.....

.....

.....

[4 markah]

(c) Pertembungan tamadun juga berlaku di Malaysia.

Apakah kepentingan pertembungan tersebut ?

.....

.....

.....

.....

.....

[4 *markah*]

3 (a) Namakan **tiga** kuasa barat yang terlibat dengan kegiatan imperialisme di Asia Tenggara.

.....

.....

.....

.....

[3 *markah*]

(b) Jelaskan peranan Terusan Suez dalam menjayakan imperialisme barat di Asia Tenggara

.....

.....

.....

.....

[3 *markah*]

(c) Bagaimanakah imperialisme boleh dielakkan daripada berulang pada masa sekarang?

.....

.....

.....

.....

.....

[4 markah]

4 Maklumat berikut merupakan anggota Suruhanjaya Reid.

Pengerusi : Lord Reid
Anggota : Sir Ivor Jennings
Sir William McKell
Tuan B Malik
Tuan Abdul Hamid

(a) Apakah peranan Suruhanjaya Reid?

.....

.....

.....

.....

[2 markah]

(b) Nyatakan isu-isu yang menjadi panduan Suruhanjaya Reid membentuk perlembagaan Tanah Melayu yang merdeka.

.....

.....

.....

.....

.....

[4 markah]

- (c) Perlembagaan Kemerdekaan Tanah Melayu berjaya memuaskan hati penduduk Tanah Melayu.
Berikan komen anda.

.....

.....

.....

.....

.....


[4 markah]

Bahagian B

[60 markah]

Jawab **tiga** soalan sahaja

5



Gambar 1

- (a) Nyatakan kesitimewaan penciptaan kolar kuda dalam tamadun China.

[6 markah]

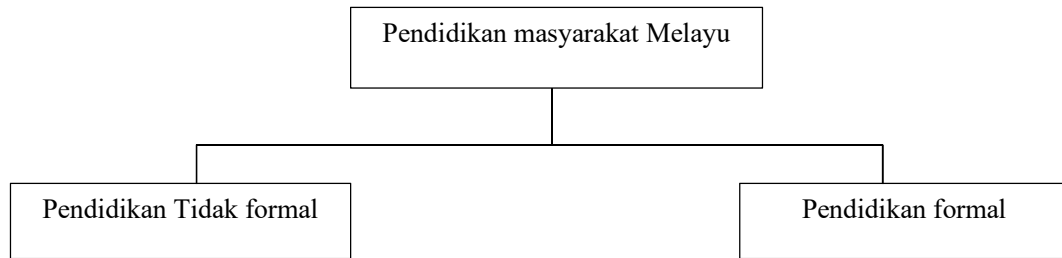
- (b) Tamadun China terkenal dengan bidang pertanian.
Buktikan pernyataan tersebut.

[6 markah]

- (c) Kegiatan pertanian sangat penting kepada sesebuah negara yang sedang membangun.
Jelaskan.

[8 markah]

- 6 Rajah 2 di bawah berkaitan dengan sistem pendidikan yang terhasil daripada kedatangan Islam ke Tanah Melayu.



Rajah 2

- (a) Jelaskan pendidikan tidak formal yang dijalankan di Tanah Melayu. [4 markah]
- (b) Bagaimanakah pendidikan formal dilaksanakan di Tanah Melayu. [8 markah]
- (c) Pendidikan boleh mengubah status sosial seseorang. Jelaskan. [8 markah]

- 7 Revolusi Pertanian telah berlaku di Britain pada akhir kurun ke 17.

- (a) Terangkan faktor yang mencetuskan revolusi tersebut. [4 markah]
- (b) Jelaskan kesan revolusi tersebut. [8 markah]
- (c) Nyatakan iktibar yang boleh diambil daripada perkembangan Revolusi Pertanian dalam meningkatkan ekonomi Malaysia. [8 markah]

8

- (a) Apakah Matlamat Persatuan Sahabat Pena Malaya (PASPAM) ? [4 markah]
- (b) Nyatakan kepentingan persatuan Melayu terhadap orang Melayu pada zaman penjajahan. [8 markah]
- (c) Sebagai seorang pelajar, mengapakah anda perlu melibatkan diri dalam persatuan di sekolah? [8 markah]

- 9 Gambar 1 menunjukkan dua orang tokoh yang mengamalkan *realpolitik* dalam menubuhkan negara bangsa.



Count Camillo Benso di Cavour

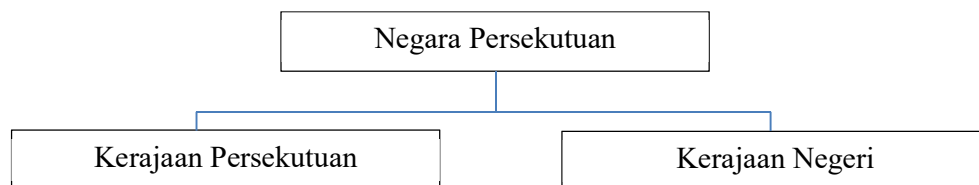


Otto Eduard von Bismarck

Gambar 1

- (a) Bagaimanakah terbentuknya negara Itali pada abad ke -19.
[6 markah]
- (b) Nabi Muhammad S.A.W membina negara bangsa Madinah. Jelaskan.
[6 markah]
- (c) Pembinaan negara bangsa Malaysia dianggap unik. Beri pandangan anda.
[8 markah]

10



- (a) Jelaskan konsep negara persekutuan yang diamalkan di Malaysia.
[4 markah]
- (b) Malaysia mengamalkan konsep pengagihan kuasa antara Kerajaan Persekutuan dengan Kerajaan Negeri.
Apakah kepentingan amalan konsep pengagihan kuasa dalam membentuk sebuah negara yang harmoni.
[8 markah]
- (c) Apakah peranan anda untuk mengekalkan Malaysia sebagai sebuah negara Persekutuan.
[8 markah]

11 (a) Jelaskan maksud

i) Blok Dunia

[2 *markah*]

ii) Perang Dingin

[2 *markah*]

(b) Mengapakah munculnya Blok Dunia?

[8 *markah*]

(c) Mengapakah Malaysia perlu menjalin hubungan luar dengan negara-negara lain di dunia?

[8 *markah*]

SOALAN TAMAT